

0-1

(695)

МИНИСТЕРСТВО ОБРАЗОВАНИЯ И НАУКИ ХАБАРОВСКОГО КРАЯ  
ХАБАРОВСКИЙ КРАЕВОЙ ИНСТИТУТ РАЗВИТИЯ ОБРАЗОВАНИЯ  
Задания муниципального этапа Всероссийской олимпиады школьников по  
обществознанию

МУНИЦИПАЛЬНАЯ ОЛИМПИАДА 2018-2019 УЧЕБНЫЙ ГОД  
7 класс  
МАКСИМАЛЬНЫЙ БАЛЛ-100

1. «ДА» или «НЕТ»? Если вы согласны с утверждением, напишите «ДА», если не согласны - «НЕТ». Внесите свои ответы в таблицу.

- 1.1. Обязанности гражданина РФ уплата налогов, сборов и участие в выборах.
- 1.2. Свобода совести подразумевает право человека использовать любую религию или не исповедовать никакой.
- 1.3. Патриотизм предполагает гордость достижениями и культурой своей Родины, желание сохранять её характер и культурные особенности
- 1.4. Животного от человека отличает орудийный характер деятельности.
- 1.5. Президента РФ выбирают депутаты на заседании Государственной Думы
- 1.6. Дружба- это отношения, построенные на взаимном доверии, привязанности, общности интересов.
- 1.7. Основными видами деятельности человека являются игра, учение и труд.
- 1.8. Творческие задатки присущи каждому человеку, однако развиты они у людей по-разному.

Ответ: - + + + + + +

1.1	1.2	1.3	1.4	1.5	1.6	1.7	1.8
да	да	да	нет	нет	да	нет	да

(295)

2. Выберите все правильные ответы. Запишите их в таблицу.

2.1. Что из перечисленного относится к конституционным обязанностям граждан РФ? Запишите в таблицу цифры, под которыми указаны конституционные обязанности.

- 1) указание своей национальности
- 2) сохранение исторического и культурного наследия
- 3) участие в выборах органов власти
- 4) уплата налогов
- 5) свободное распоряжение своими способностями к труду
- 6) пользование родным языком

2.2. Верны ли следующие суждения о взаимосвязи природы и общества?

- А. Общество развивается изолированно от природы.  
Б. Природа и общество развиваются по одинаковым законам.
- 1) Верно только А
  - 2) Верно только Б
  - 3) Верны оба суждения
  - 4) Оба суждения не верны

2.3. Организация, регулирование, управление жизнью общества осуществляется в сфере

- 1) Экономической
- 2) Социальной
- 3) Духовной
- 4) Политической

2.4. Какой из приведённых терминов обозначает участника политической деятельности?

- 1) производитель
- 2) потребитель
- 3) исследователь
- 4) избиратель

2.5. Верны ли следующие суждения о нравственных ценностях?

- А. Патриотизм проявляется в искренних переживаниях за судьбы Родины.  
Б. Гуманизм предполагает признание высшей ценности человека.
- 1) верно только А
  - 2) верно только Б
  - 3) верны оба суждения
  - 4) оба суждения неверны

Проверил:  
Заведующий:

А.М. Скрабневский  
В.В. Корневский  
Баранов Т.А.

- + + - + +

2.1	2.2	2.3.	2.4.	2.5.
3, 4	4	2	4	3

0-1  
98

3. Установите соответствие между науками и их краткими описаниями. Запишите их в таблицу.

НАУКА	КРАТКОЕ ОПИСАНИЕ
А. Юриспруденция	1) Наука о мышлении
Б. Философия	2) Наука о морали
В. Этика	3) Наука об обществе и общественных отношениях
Г. Логика	4) Наука, изучающая свойства государства и права
Д. Эстетика	5) Наука о процессах психической деятельности человека
Е. Сфрагистика	6) Наука о красоте
Ж. Социология	7) Вспомогательная историческая дисциплина, изучающая печати( матрицы) и их оттиски на различных материалах
З. Психология	8) Наука о наиболее общих законах развития природы, общества и познания

Ответ:

А	Б	В	Г	Д	Е	Ж	З
4	8	2	1	6	5	3	7

50

4. Что является лишним в ряду? КРАТКО поясните почему?

4.1 День защитника Отечества, Международный женский день, День рождения города, День России, День Победы, День народного единства - день рождения города, т.к. празднуется только в одном городе, а остальные праздники международные и празднуются в один и тот же день.

4.2 Семья, школьный класс, бригада строителей, студенческая группа, спортивная команда, нация, ближайшие соседи - нация, т.к. по сравнению с остальными это самая большая группа людей.

4.3 Правительство Хабаровского края, Правительство РФ, Губернатор Хабаровского края, Краевой суд, Краевая Дума - правительство РФ, т.к. всё остальное связано с краем, а не со страной

50  
35

35

15

5. Установите соответствие между главными социальными институтами и сферами жизни общества: к каждой позиции, данной в первом столбце, подберите соответствующую позицию из второго столбца.

ГЛАВНЫЕ СОЦИАЛЬНЫЕ ИНСТИТУТЫ

- А) государство
- Б) религия
- В) образование
- Г) производство
- Д) семья

СФЕРЫ ЖИЗНИ ОБЩЕСТВА

- 1) экономика
- 2) политика
- 3) духовная культура
- 4) социальные отношения

Запишите в ответ цифры, расположив их в порядке, соответствующем буквам:

А	Б	В	Г	Д
2	3	3	1	4

+ + + + +

150

6. Закончите определения:

6.1 Приобретение знаний путём самостоятельных занятий вне школы, без помощи преподавателя- это самособразование, самообучение

6.2 Установленные конституцией, специальными законами или традициями особые, как правило исторически сложившиеся, отличительные знаки государства - герб, гимн, флаг

6.3 Лицо, принадлежащее к постоянному населению данного государства, пользующееся всеми правами, обеспеченными конституцией, и исполняющее все установленные конституцией обязанности- гражданин

20

20

7.1.Ниже приведен перечень терминов. Все они, за исключением двух, относятся к понятию «искусство».

- 1) архитектура 2) живопись 3) театр 4) кино 5) мораль 6) религия 7) музыка

Ответ: 1, 2, 3, 4, 7

7.2.Ниже приведен перечень терминов. Все они, за исключением двух, относятся к понятию «структура деятельности».


- 1) субъект 2) объект 3) цель 4) статус 5) нормы 6) средства 7) результат

Ответ: 2, 3, 4, 6, 7


8. Внимательно рассмотрите представленные ниже изображения и прочитайте предложенные тезисы. Выполните задания.



А



Б




В



Г



Д



Е

**Тезисы:**

1. Анна и Марина соседки. Они здороваются при встрече.
2. Владимир и Евгений играют в одной хоккейной команде "Амурские тигры"
3. Ростислав и Никита вместе отдыхали в летнем лагере "Созвездие".
4. Отношения двух врачей, живущих по соседству, в нерабочее время.
5. Мария и Анастасия учатся в одной группе университета.
6. Отношения главного врача больницы и представителя министерства на производственном совещании.
7. Отношения представителей технического персонала фирмы при распределении сфер ответственности.

**Задания:**

- 1) Укажите какие иллюстрации, могут быть отнесены к деловым отношениям, а какие к личным. Свой ответ запишите в таблицу.
- 2) Определите, какие тезисы относятся к деловым отношениям, а какие к личным. Свой ответ запишите в таблицу.

	Личные отношения	Деловые (официальные) отношения
Номер изображения	Г, Д, А	Б, В, Е
Номер высказывания	1, 3, 4, 5	6, 7, 2

++++

++-

108  
48  
65

**ЖЕЛАЕМ УДАЧИ!**