

1	2	3	4	5	6	7	8
18	12	8	6	15	4	0	18

0-12
81

МИНИСТЕРСТВО ОБРАЗОВАНИЯ И НАУКИ ХАБАРОВСКОГО КРАЯ
ХАБАРОВСКИЙ КРАЕВОЙ ИНСТИТУТ РАЗВИТИЯ ОБРАЗОВАНИЯ
Задания муниципального этапа Всероссийской олимпиады школьников по
обществознанию

*В.О. Мельник
В.В. Котевнин*

МУНИЦИПАЛЬНАЯ ОЛИМПИАДА 2019-2020 УЧЕБНЫЙ ГОД
7 класс
МАКСИМАЛЬНЫЙ БАЛЛ-100

1. «ДА» или «НЕТ»? Если вы согласны с утверждением, напишите «ДА», если не согласны - «НЕТ». Внесите свои ответы в таблицу.

- 1.1. Россия является республикой.
- 1.2. Основные качества личности проявляются в человеке с момента рождения.
- 1.3. Экономическая сфера регулирует организацию государственной власти.
- 1.4. Форма устройства детей-сирот, социальных сирот, при которой ребёнок в правовом отношении полностью приравнивается к родным детям, называется усыновление.
- 1.5. Директор школы вызвал родителей ученика для разговора о его поведении - этот пример иллюстрирует формальные межличностные отношения
- 1.6. Адвокатура как правоохранительный орган выполняет следующие функции: консультации по юридическим вопросам; представление клиентов в суде по гражданским делам; помощь в составлении жалоб и заявлений правового характера.
- 1.7. Миграция - это перемещение людей из одних регионов или стран в другие.
- 1.8. Губернатор Хабаровского края— это высшее должностное лицо субъекта Российской Федерации (края, области, автономного округа, города), возглавляющее исполнительную власть на территории субъекта Российской Федерации.

Ответ:

1.1	1.2	1.3	1.4	1.5	1.6	1.7	1.8
нет	нет	нет	да	нет	да	да	да

18

2. Выберите все правильные ответы. Запишите их в таблицу.

2.1 Нормы морали в отличие от норм права

- 1) регулируются государством
- 2) касаются только определённой группы людей
- 3) регулируют поведение всех людей
- 4) изменяются в связи со сменой правительства

2.2. Учитель на родительском собрании, говоря о Татьяне, отметил её творческий подход к решению проблем, оригинальность в любом виде деятельности и неповторимые особенности её письменных работ по литературе. То есть он охарактеризовал Таню как

- 1) индивида
- 2) индивидуальность
- 3) субъекта
- 4) личность

2.3. К сфере политико-правовых отношений можно отнести контакты между

- 1) полицейским, едущим в автобусе, и пассажирами автобуса
- 2) кандидатом в депутаты и учителем в школе, где учится его сын
- 3) молодым человеком и инвалидом в метро
- 4) владельцем угнанного автомобиля и полицейским

2.4. Верны ли следующие суждения о природе?

А. Природа – совокупность естественных условий обитания человека.

Б. Природа – это мир, созданный человеком.

- 1) верно только А
- 2) верно только Б
- 3) верны оба суждения
- 4) оба суждения неверны

2.5. К политической сфере общества относятся отношения между

- 1) инспектором ГИБДД и водителем
- 2) кандидатом в депутаты и его избирателями

- 3) тренером и его командой
4) продавцом и покупателем в магазине

2.1	2.2	2.3.	2.4.	2.5.
3	1, 4	4	4	2

3. Выберите верные суждения.

3.1. Выберите верные суждения о моральных нормах и запишите цифры, под которыми они указаны.

- 1) Моральные нормы, в отличие от правовых социальных норм, всегда предъявляются в письменном виде.
2) Моральные нормы обеспечиваются общественным мнением.
3) Моральные нормы передаются из поколения в поколение.
4) Моральные нормы способствуют социализации подрастающего поколения.
5) Моральные нормы вырабатываются и предъявляются государством.

Ответ 2, 3, 4

3.2. Выберите верные суждения о социальных конфликтах и запишите цифры, под которыми они указаны.

- 1) Социальные конфликты могут протекать только в форме гражданских войн.
2) Конфликты могут оказывать положительное воздействие на общество.
3) Одним из способов разрешения социального конфликта являются взаимные уступки противоборствующих сторон.
4) Все социальные конфликты вызваны экономическими причинами.
5) Причиной социального конфликта всегда выступают объективные обстоятельства.

Ответ 3, 4

4. Выберите верные суждения о социальных группах и запишите цифры, под которыми они указаны.

- 1) В формальной группе статус членов и цель деятельности не всегда чётко определены, а взаимодействия основаны преимущественно на взаимной симпатии, общем интересе или привычке.
2) Принадлежность к определённой социальной группе помогает человеку осознать своё положение в обществе.
3) Русские, белорусы, немцы — социальные группы, выделяемые по социально-демографическому признаку.
4) Принадлежность к различным социальным группам определяет социальные статусы человека.
5) Социальной группой называется совокупность людей, объединяемая устойчивыми социальными связями и отношениями и обладающая рядом признаков, придающих ей неповторимое своеобразие.

Ответ 1, 5, 2

5. Установите соответствие между главными социальными институтами и сферами жизни общества: к каждой позиции, данной в первом столбце, подберите соответствующую позицию из второго столбца.

ОТНОШЕНИЯ

- А) поставщика сырья и производителя товара
Б) избирателя и кандидата в депутата
В) лидера парламентской фракции и члена партии
Г) покупателя и продавца
Д) заполнение налоговой декларации

**СФЕРЫ ЖИЗНИ
ОБЩЕСТВА**

- 1) экономическая
2) политическая

156
Запишите в ответ цифры, расположив их в порядке, соответствующем буквам:

А	Б	В	Г	Д
1 1	2	2	1	1

+

+

+

+

+

И
6. Определите термин:

6.1 нация - это

исторически сложившаяся часть человечества, объединенная устойчивой общностью языка, территории, экономической жизни и культуры.

6.2 природа - это совокупность естественных условий на земле (поверхность, растительность, климат), органический и неорганический мир, все существующее на земле, не созданное деятельностью человека.

7.1. Выберите понятие, которое является обобщающим для всех остальных понятий представленного ниже ряда. Запишите это слово (словосочетание).

Социальная группа, первичная группа, неформальная группа, этническая общность, общественный класс.


— Ответ: общественный класс.

7.2. Найдите понятие, которое является обобщающим для всех остальных понятий представленного ниже ряда. Запишите это слово (словосочетание).


Моральные нормы, позитивные санкции, социальный контроль, правовые нормы, негативные санкции.

— Ответ: моральные нормы.

8. Внимательно рассмотрите представленные ниже изображения и прочитайте предложенные тезисы. Выполните задания.




А



Б



В



Г



Д



Е

Задания:

- 1) Укажите какие иллюстрации, могут быть отнесены к правам гражданина РФ, а какие к его обязанностям. Свой ответ запишите в таблицу.
- 2) Определите, какие тезисы относятся к правам гражданина РФ, а какие к его обязанностям. Свой ответ запишите в таблицу.

Тезисы:

- 1) указание своей национальности
- 2) сохранение исторического и культурного наследия
- 3) участие в выборах органов власти
- 4) уплата налогов
- 5) заключение брака
- 6) исповедование определённой религии
- 7) забота о нетрудоспособных нуждающихся родителях

	ПРАВА ГРАЖДАНИНА			ОБЯЗАННОСТИ ГРАЖДАНИНА		
Изображение	В	Г	Б	Е	Г	А
Номер высказывания	3	5	6	2	4	7

ЖЕЛАЕМ УДАЧИ!

12
6
18